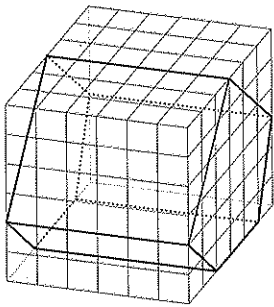



Prisma und Pyramide: 4a Das gerade Prisma

6 Ansichten gerader Prismen


- Skizziere zu jedem geraden Prisma die drei Ansichten.
- Markiere die sichtbare Grund-/Deckfläche im Raumbild und in der entsprechenden Ansicht mit Farbe.



von vorne



von rechts



von oben

